

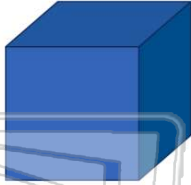


Name _____ Class _____ Date _____

1 The **block** is a _____.

El **bloque** es un **cuadro**.

- A rectangle
- B diamond
- C square
- D oval



3 The **balloon** is _____.

El **balloon** es **ovalado**.



2 The **slice** is a _____.



La **slice** es un **triángulo**.

- A diamond
- B circle
- C rectangle
- D triangle



4 What is the **shape**?

¿Cuál es la **forma**?

- A circle
- B triangle
- C diamond



5







PREVIEW

7 Please [Sign In](#) or [Sign Up](#) to download the printable version of this worksheet









- B oval
- C square
- D diamond



9 Which is a **square**?
¿Cuál es un **cuadro**?

- A 
- B 
- C 
- D 

10 Which is a **rectangle**?
¿Cuál es un **rectángulo**?

- A 
- B 
- C 
- D 
- A 
- B 
- C 
- D 

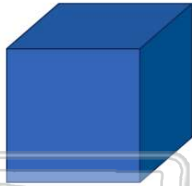


ANSWER KEY

The **block** is a _____.

El bloque es un **cuadro**.

- A** rectangle
- B** diamond
- C** square
- D** oval



(c)

The  is a _____.

La  es un **triángulo**.

(d)

- A** diamond
- B** circle
- C** rectangle
- D** triangle

What is the **shape**?

¿Cuál es la **forma**?

- A** circle
- B** triangle
- C** diamond
- D** square



(a)

The  is _____.

El  es **ovalado**.

- A** circle
- C** square

(b)



PREVIEW





Please [Sign In](#) or [Sign Up](#) to download the printable version of this worksheet

- C** square
- D** diamond



- B** 
- D** 

Which is a **square**?
¿Cuál es un **cuadro**?

- A** 
- B** 
- C** 
- D** 

(b)

Which is a **rectangle**?
¿Cuál es un **rectángulo**?

- A** 
- B** 
- C** 
- D** 

(a)